

PRÓBNY EGZAMIN MATURALNY Z MATEMATYKI

ZESTAW PRZYGOTOWANY PRZEZ SERWIS

WWW.ZADANIA.INFO

POZIOM PODSTAWOWY

22 MARCA 2014

CZAS PRACY: 170 MINUT

Zadania zamknięte

ZADANIE 1 (1 PKT)

Dwadzieścia dziewcząt stanowi 62,5% uczniów klasy IB. Ilu chłopców jest w tej klasie?

- A) 12 B) 6 C) 32 D) 9

ZADANIE 2 (1 PKT)

Wszystkie liczby spełniające warunek $x - 1 < 2x \leq 3x + 3$ można zapisać za pomocą przedziału:

- A) $(-1, +\infty)$ B) $(-\infty, -3)$ C) $\langle -3, -1 \rangle$ D) $\langle -3, +\infty \rangle$

ZADANIE 3 (1 PKT)

Liczba $\log_{3,5} 12,25 - \log_{0,5} 8$ jest równa

- A) 5 B) -1 C) $-\frac{1}{2}$ D) 1

ZADANIE 4 (1 PKT)

Rozwiązaniem układu równań $\begin{cases} 5x + 3y = 0 \\ 2y + x = 14 \end{cases}$ jest para (x, y) liczb takich, że

- A) $x < 0$ i $y < 0$ B) $x < 0$ i $y > 0$ C) $x > 0$ i $y < 0$ D) $x > 0$ i $y > 0$

ZADANIE 5 (1 PKT)

Wskaż zbiór rozwiązań nierówności $\sqrt{(-5-x)^2} \leq 3$.

- A) $x \in \langle -8, 2 \rangle$ B) $x \in \langle -2, 8 \rangle$ C) $x \in \langle 2, 8 \rangle$ D) $x \in \langle -8, -2 \rangle$

ZADANIE 6 (1 PKT)

Wierzchołek paraboli o równaniu $y = (x - 1)^2 + 2c$ leży na prostej o równaniu $y = 4x$.

Wtedy

- A) $c = \frac{1}{2}$ B) $c = -\frac{1}{2}$ C) $c = -2$ D) $c = 2$

ZADANIE 7 (1 PKT)

Kąt α jest ostry i $\sin \alpha = \frac{2}{3}$. Wartość wyrażenia $1 - \operatorname{tg} \alpha \cdot \cos \alpha$ jest równa

- A) $\frac{4}{9}$ B) $\frac{2}{3}$ C) $\frac{1}{3}$ D) $\frac{11}{9}$

ZADANIE 8 (1 PKT)

Wyrażenie $4x^2 - (x - y)^2$ po rozłożeniu na czynniki przyjmuje postać:

- A) $(x + y)(3x + y)$ B) $(x - y)(3x + y)$ C) $(3x - y)(x - y)$ D) $(3x - y)(x + y)$

ZADANIE 9 (1 PKT)

Liczba $\frac{\sqrt{40} - \sqrt{10}}{\sqrt{5}}$ jest równa

- A) $\sqrt{2}$ B) $2\sqrt{2}$ C) 4 D) $\sqrt{20} - \sqrt{5}$

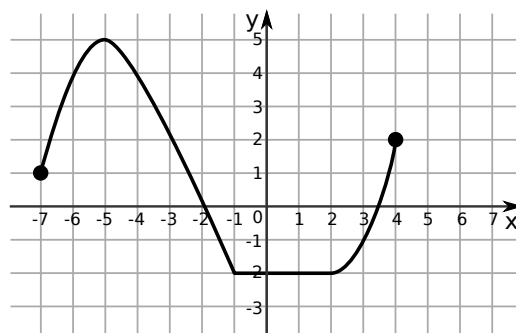
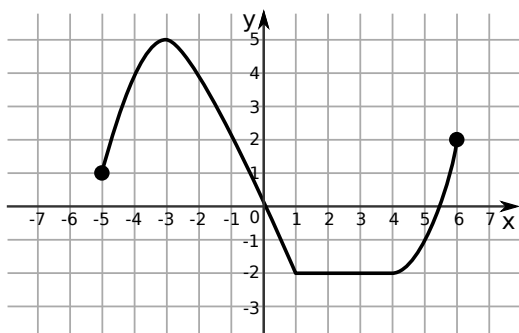
ZADANIE 10 (1 PKT)

Liczba $\frac{1}{2} + \log_5 \sqrt{20}$ jest równa:

- A) $\log_5 5\sqrt{20}$ B) $\log_5 \sqrt{5}$ C) $\frac{1}{4}$ D) $\log_5 10$

ZADANIE 11 (1 PKT)

Na rysunku 1 przedstawiony jest wykres funkcji $y = f(x)$ określonej dla $x \in \langle -5, 6 \rangle$.

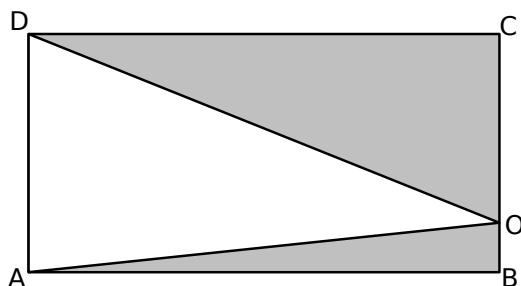


Rysunek 2 przedstawia wykres funkcji

- A) $y = f(x + 2)$ B) $y = f(x) - 2$ C) $y = f(x - 2)$ D) $y = f(x) + 2$

ZADANIE 12 (1 PKT)

Z prostokąta $ABCD$ o polu 30 wycięto trójkąt AOD (tak jak na rysunku). Pole zacieniowanej figury jest równe



- A) 7,5 B) 15 C) 20 D) 25

ZADANIE 13 (1 PKT)

Ciąg $(147, 42, x - 3)$ jest geometryczny. Wtedy

- A) $x = 15$ B) $x = 12$ C) $x = 9$ D) $x = 6$

ZADANIE 14 (1 PKT)

Ciągiem arytmetycznym jest ciąg o wyrazie ogólnym a_n równym:

- A) $a_n = \frac{4}{n}$ B) $a_n = 2^n$ C) $a_n = -3n - 3$ D) $a_n = 3 + n^2$

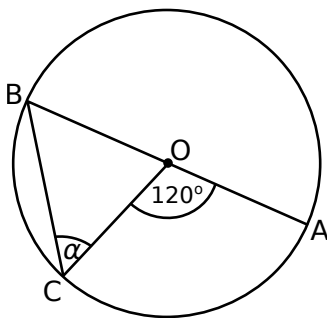
ZADANIE 15 (1 PKT)

Liczba rzeczywistych rozwiązań równania $(x + 1)(x + 2)(x^2 - 3) = 0$ jest równa

- A) 0 B) 1 C) 2 D) 4

ZADANIE 16 (1 PKT)

Punkt O jest środkiem okręgu o średnicy AB (tak jak na rysunku). Kąt α ma miarę



- A) 40° B) 50° C) 60° D) 80°

ZADANIE 17 (1 PKT)

Który wyraz ciągu (a_n) o wyrazie ogólnym $a_n = \frac{3n^2 - 5}{1 - 2n^2}$ jest równy $-\frac{10}{7}$?

- A) piąty B) dwudziesty piąty C) siódmy D) dziewiąty

ZADANIE 18 (1 PKT)

Poniżej zamieszczono fragment tabeli wartości funkcji liniowej

x	1	2	4
$f(x)$	4	1	

W pustym miejscu w tabeli powinna znajdować się liczba:

- A) -5 B) 5 C) -2 D) 2

ZADANIE 19 (1 PKT)

Dany jest trójkąt o wierzchołkach $A = (4, -3)$, $B = (4, 1)$, $C = (-6, -2)$. Długość środkowej poprowadzonej z wierzchołka C jest równa

- A) $\sqrt{101}$ B) $\sqrt{102}$ C) 10 D) $\sqrt{10}$

ZADANIE 20 (1 PKT)

Prostokąt o bokach 3 i 5 obracając się dookoła prostej zawierającej dłuższy bok wyznacza bryłę o objętości równej

- A) 45π B) 15π C) 180π D) 90π

ZADANIE 21 (1 PKT)

Średnia arytmetyczna zestawu danych: 2, 3, x , 9, 4, 5, 1, 5 wynosi 4,5. Wynika z tego, że:

- A) $x = 6$ B) $x = 3$ C) $x = 7$ D) $x = 5$

ZADANIE 22 (1 PKT)

Prawdopodobieństwo zdarzenia, że w rzucie dwiema symetrycznymi kostkami do gry otrzymamy iloczyn oczek równy 4, wynosi

- A) $\frac{1}{4}$ B) $\frac{1}{9}$ C) $\frac{1}{12}$ D) $\frac{1}{18}$

ZADANIE 23 (1 PKT)

Kąt α jest ostry i $\cos \alpha = \frac{\sqrt{3}}{3}$. Wtedy wartość wyrażenia $2 - \sin^2 \alpha$ jest równa

- A) 0 B) $\frac{2}{3}$ C) $\frac{4}{3}$ D) 1

ZADANIE 24 (1 PKT)

Równania $9 - 5y = 0$ i $3x + 7 = 0$ opisują proste w układzie współrzędnych, które

- A) są prostopadłe
B) są równoległe
C) przecinają się pod kątem 60°
D) przecinają się pod kątem 45°


ZADANIE 25 (2 PKT)

Rozwiąż równanie $6x^3 - 8x^2 - 9x + 12 = 0$.



ZADANIE 26 (2 PKT)

Oblicz wartość wyrażenia $2 \sin^2 \alpha + \frac{1 - \operatorname{tg}^2 \alpha}{1 + \operatorname{tg}^2 \alpha}$, gdzie α jest kątem ostrym.



ZADANIE 28 (2 PKT)

W tabeli przedstawiono oceny ze sprawdzianu z matematyki w klasie 1B.

Ocena	1	2	3	4	5	6
Liczba ocen	3	3	6	x	4	2

Średnia arytmetyczna tych ocen jest równa 3,48. Oblicz liczbę x ocen dobrych (4) otrzymanych przez uczniów na tym sprawdzianie.


ZADANIE 29 (2 PKT)

Wykaż, że $7^{16} - 1$ jest liczbą podzielną przez 2^7 .




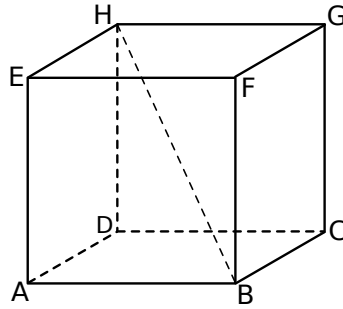
ZADANIE 30 (2 PKT)

Wykaż, że jeżeli $a > 1$, to $\frac{a^4+a^2+1}{2} \geq \frac{a^3-1}{a^2-1}$.



ZADANIE 31 (4 PKT)

Podstawą graniastoslupa $ABCDEFGH$ jest prostokąt $ABCD$ (zobacz rysunek), którego dłuższy bok ma długość 6. Przekątna prostokąta $ABCD$ tworzy z jego krótszym bokiem kąt 60° . Przekątna HB graniastoslupa tworzy z płaszczyzną jego podstawy kąt 45° . Oblicz objętość tego graniastoslupa.



ZADANIE 32 (5 PKT)

Punkty $A = (-1, -5)$, $B = (5, 1)$, $C = (1, 3)$, $D = (-2, 0)$ są kolejnymi wierzchołkami trapezu $ABCD$. Oblicz pole tego trapezu.



ZADANIE 33 (5 PKT)

Pole każdej z dwóch prostokątnych działek jest równe 2400 m^2 . Szerokość pierwszej działki jest o 8 m większa od szerokości drugiej, ale jej długość jest o 10 m mniejsza. Oblicz szerokość i długość każdej z działek.

