




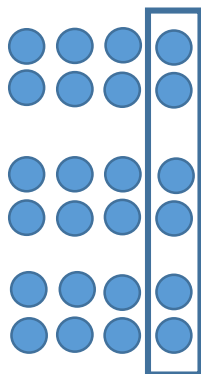
MODUŁ II
Karta pracy nr 1

Rozwiąż zadanie przynajmniej dwoma różnymi sposobami.

Zadanie 1

Gdyby wszystkich uczniów klas ósmych pewnej szkoły podzielono na grupy 6-osobowe, to powstałyby o 3 grupy więcej niż gdyby podzielono ich na grupy 8-osobowe. Ilu uczniów klas ósmych jest w tej szkole?

Do rozwiązania zadania spróbuj wykorzystać poniższy rysunek.





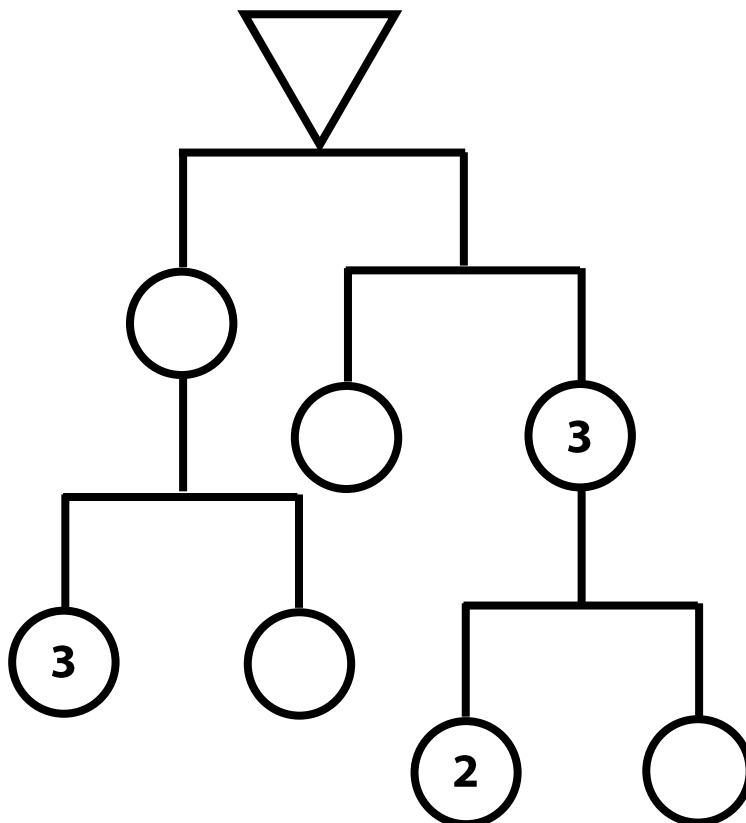
MODUŁ II
Karta pracy nr 3

Rozwiąż zadanie.

Zadanie 1

Przedstawiona poniżej waga szalkowa jest w równowadze. Wszystkie podane masy wyrażone są w kilogramach.

a) Uzupełnij brakujące masy.



b) Zaprojektuj analogiczną zabawę dydaktyczną ze zmienionym w wadze układem szalek i innymi wartościami mas.